




## مراجعة للرياضيات فصل أول سنة ثانية ابتدائي

أعد الأشكال، ثم أكمل الجدول



...	...	...	...

مجموع الأشكال كلها هو: .....

$$... + ... + ... + ... = ...$$

أقارنُ باستخدام أحد الرمزِين < أو > :

..	...	..

..	...	..

..	...	..

..	...	..

..	...	..

أرقمُ الأشكال من الأكبر إلى الأصغر:

.	.	.	.

اكتشف القاعدة ثم أكمل متتالية الأعداد:



اكتب الأعداد المخصوصة بين العنَيْن العشريين 60 و 70




أكمل:

عَدَدٌ رَقْمٌ وَحَدَاتِهِ 5 و رَقْمٌ عَشْرَاتِهِ يُسَاوِي 2 + 7 هُوَ .....	97 هُوَ ..... وَحَدَاتُ وَ ..... عَشْرَاتُ
عَدَدٌ رَقْمٌ وَحَدَاتِهِ 9 و رَقْمٌ عَشْرَاتِهِ 4 هُوَ .....	58 هُوَ ..... وَحَدَاتُ وَ ..... عَشْرَاتُ
عَدَدٌ رَقْمٌ وَحَدَاتِهِ 3 و رَقْمٌ عَشْرَاتِهِ يُسَاوِي 3 - 9 هُوَ .....	22 هُوَ ..... وَحَدَاتُ وَ ..... عَشْرَاتُ
عَدَدٌ رَقْمٌ وَحَدَاتِهِ يُسَاوِي رَقْمٌ عَشْرَاتِهِ وَ مَجْمُوعُهُمَا يُسَاوِي 4 هُوَ .....	60 هُوَ ..... وَحَدَاتُ وَ ..... عَشْرَاتُ





## أحط كل عَشْرَة وَحَدَات، ثم أكمل:



عَدُّ الْوَحَدَاتِ .....  
عَدُّ الْعَشْرَاتِ .....

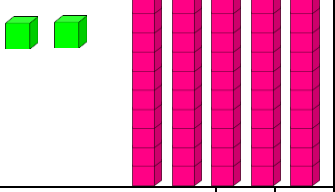
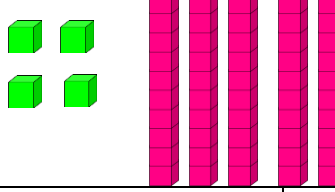
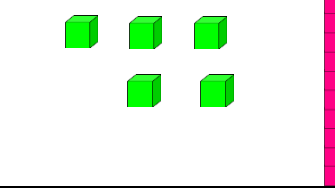


عَدُّ الْعَشْرَاتِ .....  
عَدُّ الْوَحَدَاتِ .....

			
وَحَدَات	عَشْرَات	مِنْ.....	وَحَدَات
..	..		..

قَارِنْ بَيْنَ الْعَدَّيْنِ

## أحسب عدد الوحدات و العشرات، ثم أكمل الجدول:

		
...	...	...
و ع	و ع	و ع

## أكمل برسم الوحدات و العشرات

66	19	54
و ع	و ع	و ع



## أَصْبُبْ عَدَدَ الْوَحَدَاتِ وَالْعَشْرَاتِ، ثُمَّ أَفَكِّكُ الْعَدَدَ عَلَى النُّحُوِّ الَّذِي اخْتَارَ:

	$.. = .. + 5$ $.. = .. + .. + 5$ $.. = .. + .. + .. + 5$ $.. = .. + .. + .. + .. + 5$
	$.. = .. + 9$ $.. = .. + .. + 9$ $.. = .. + .. + .. + 9$ $.. = .. + .. + .. + .. + .. + 9$
	$.. = .. + ..$ $.. = .. + ..$ $.. = .. + .. + ..$ $.. = .. + .. + .. + .. + ..$

### أَتِمِّنْ إِلَى الْعَشْرَةِ الْمَوْالِيَةِ:

.. 78

.. 61

.. 29

.. 45

.. 36

### أَكْتُبِ الْعَدَدَ الَّذِي يَسْبِقُ وَالْعَدَدَ الَّذِي يَلِي:

.. 77 ..

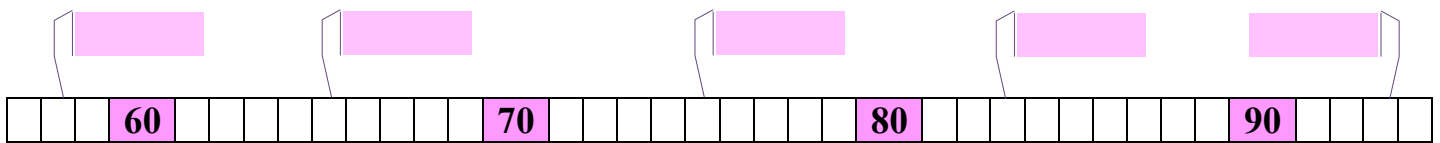
.. 68 ..

.. 81 ..

.. 20 ..

.. 15 ..

### أَتِمِّنْ بِالْعَدَدِ الْمُنَاسِبِ:



### أَرِبْطُ بَيْنَ الْإِجَابَاتِ الْمُتَشَابِهَةِ:

- |        |   |                            |   |                        |
|--------|---|----------------------------|---|------------------------|
| 80 + 9 | * | 5 وَحَدَاتٍ و 7 عَشْرَاتٍ  | * | ثَلَاثَةٌ وَ تِسْعُونَ |
| 90 + 3 | * | 9 وَحَدَاتٍ و 8 عَشْرَاتٍ  | * | خَمْسَةٌ وَ سَبْعُونَ  |
| 60 + 4 | * | 3 وَحَدَاتٍ وَ 9 عَشْرَاتٍ | * | أَرْبَعَةٌ وَ سِتُونَ  |
| 70 + 5 | * | 4 وَحَدَاتٍ وَ 6 عَشْرَاتٍ | * | تِسْعَةٌ وَ ثَمَانُونَ |



## أَلِحِظْ الصُّورَةَ ثُمَّ اكْمِلْ بِمَا يَلِي { عَلَى يَمِينٍ، عَلَى يَسَارٍ، خَلْفَ، أَمَامَ، فَوْقَ، أَسْفَلَ }



نُورٌ لَيْلٍ تَقِفُ..... الشَّجَرَةَ.

تَجْلِسُ أَسِيْلٌ..... الشَّجَرَةَ.

يَقِفُ يُوسُفُ..... مَرَامَ.

العُصْفُورُ يُحَلِّقُ..... الشَّجَرَةَ.


الكَرَّةُ..... يُوسُفُ.

## اسْتَخْرِجْ مِنَ الْجَنُودِ الْمُعْطِيَاتِ:

نُصَلِّي صَلَاةَ الْفَجْرِ عَلَى السَّاعَةِ.....  
نُصَلِّي..... عَلَى السَّاعَةِ 12:34  
نُصَلِّي صَلَاةَ الْمَغْرِبِ عَلَى السَّاعَةِ.....  
نُصَلِّي..... عَلَى السَّاعَةِ 19:04

الوقت	الصلاة
6:01	الفجر
12:34	الظهر
15:15	العصر
17:34	المغرب
19:04	العشاء

## أَسْتَعْمِلُ الْوَحْدَةَ ■■■ لِقِيَاسِ طُولِ كُلِّ شَرِيْطٍ



طُولُ الشَّرِيْطِ الْأَزْرَقِ..... وَحَدَاثُ

طُولُ الشَّرِيْطِ الْأَخْضَرِ..... وَحَدَاثُ

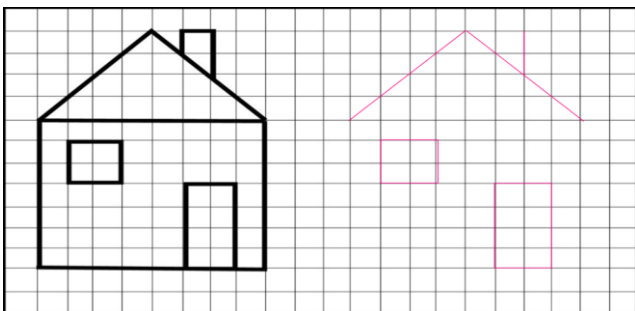
طُولُ الشَّرِيْطِ الْوَرْدِيِّ..... وَحَدَاثُ

طُولُ الشَّرِيْطِ الْبِنْفَسَجِيِّ..... وَحَدَاثُ

طُولُ الشَّرِيْطِ الْأَصْفَرِ..... وَحَدَاثُ

رَقْمُ الْأَشْرِطَةِ مِنَ الْأَطْوَلِ إِلَى الْأَقْصَرِ

## أَعِدْ رَسْمَ الْمَنْزِلِ عَلَى الْمَرْصُوفَةِ



## لَوْنِ الدَّجَاجَاتِ الثَّلَاثِ الَّتِي تُوجَدُ عَلَى اسْتِقَامِيَّةٍ وَاحِدَةٍ

